

001/001

# FUVEST 2008

2ª Fase - História ou Química (07/01/2008)

BOX 000  
000/000

# FUVEST

FUNDAÇÃO UNIVERSITÁRIA PARA O VESTIBULAR

### Leia atentamente as instruções abaixo

1. Aguarde a autorização do fiscal para abrir o caderno de questões e iniciar a prova.
2. Verifique se seu nome e seu número de inscrição estão corretos.
3. Duração da prova : **3 horas.**
4. A prova deve ser feita com caneta azul ou preta.
5. A solução de cada questão deve ser feita nos espaços correspondentes.
6. Este caderno de prova contém páginas destinadas a rascunho. O que estiver escrito nessas páginas **NÃO** será considerado na correção da prova.
7. Verifique se este caderno de prova contém 10 (dez) questões e se a impressão está legível.
8. **NÃO escreva no verso desta folha.**

**BOA PROVA !**

Ciente dessas informações, assino o canhoto abaixo.

Ordem	Inscrição	Prova	Escola/Sala/Fila/Lugar
<input type="text"/>	<input type="text"/>	<input type="text"/>	<input type="text"/>

Nome do Candidato

HISTÓRIA

Assinatura do Candidato

## História

LOTE

SEQ.

—	<input type="text"/>	<input type="text"/>	<input type="text"/>	<input type="text"/>	<input type="text"/>	<input type="text"/>	<input type="text"/>	<input type="text"/>	<input type="text"/>	—
	<input type="text"/>	<input type="text"/>	<input type="text"/>	<input type="text"/>	<input type="text"/>	<input type="text"/>	<input type="text"/>	<input type="text"/>	<input type="text"/>	—
	<input type="text"/>	<input type="text"/>	<input type="text"/>	<input type="text"/>	<input type="text"/>	<input type="text"/>	<input type="text"/>	<input type="text"/>	<input type="text"/>	—
	<input type="text"/>	<input type="text"/>	<input type="text"/>	<input type="text"/>	<input type="text"/>	<input type="text"/>	<input type="text"/>	<input type="text"/>	<input type="text"/>	—

Q.01	<input type="text"/>	<input type="text"/>	<input type="text"/>	<input type="text"/>	<input type="text"/>	—
	0	1	2	3	4	—
Q.02	<input type="text"/>	<input type="text"/>	<input type="text"/>	<input type="text"/>	<input type="text"/>	—

Q.03	<input type="text"/>	<input type="text"/>	<input type="text"/>	<input type="text"/>	<input type="text"/>	—
	0	1	2	3	4	—
Q.04	<input type="text"/>	<input type="text"/>	<input type="text"/>	<input type="text"/>	<input type="text"/>	—

Q.05	<input type="text"/>	<input type="text"/>	<input type="text"/>	<input type="text"/>	<input type="text"/>	—
	0	1	2	3	4	—
Q.06	<input type="text"/>	<input type="text"/>	<input type="text"/>	<input type="text"/>	<input type="text"/>	—

Q.07	<input type="text"/>	<input type="text"/>	<input type="text"/>	<input type="text"/>	<input type="text"/>	—
	0	1	2	3	4	—
Q.08	<input type="text"/>	<input type="text"/>	<input type="text"/>	<input type="text"/>	<input type="text"/>	—

Q.09	<input type="text"/>	<input type="text"/>	<input type="text"/>	<input type="text"/>	<input type="text"/>	—
	0	1	2	3	4	—
Q.10	<input type="text"/>	<input type="text"/>	<input type="text"/>	<input type="text"/>	<input type="text"/>	—

—	<input type="text"/>	<input type="text"/>	<input type="text"/>	<input type="text"/>	<input type="text"/>	<input type="text"/>	<input type="text"/>	<input type="text"/>	<input type="text"/>	—
	<input type="text"/>	<input type="text"/>	<input type="text"/>	<input type="text"/>	<input type="text"/>	<input type="text"/>	<input type="text"/>	<input type="text"/>	<input type="text"/>	—
	<input type="text"/>	<input type="text"/>	<input type="text"/>	<input type="text"/>	<input type="text"/>	<input type="text"/>	<input type="text"/>	<input type="text"/>	<input type="text"/>	—
	<input type="text"/>	<input type="text"/>	<input type="text"/>	<input type="text"/>	<input type="text"/>	<input type="text"/>	<input type="text"/>	<input type="text"/>	<input type="text"/>	—



## FUVEST 2008



**NÃO  
ESCREVA  
NESTA  
FOLHA**



## ATENÇÃO

ESTE CADERNO CONTÉM 10 (DEZ) QUESTÕES E RESPECTIVOS ESPAÇOS PARA RESPOSTAS.

DURAÇÃO DA PROVA: 3 (TRÊS) HORAS.

- A correção de cada questão será restrita somente ao que estiver registrado no espaço correspondente, na página de respostas, à direita.



## Q.01

A cidade antiga (grega, entre os séculos VIII e IV a.C.) e a cidade medieval (européia, entre os séculos XII e XIV), quando comparadas, apresentam tanto aspectos comuns quanto contrastantes.

Indique aspectos que são

- a) comuns às cidades antiga e medieval.
- b) específicos de cada uma delas.

---

## Q.02

Se, para o historiador, a Idade Média não pode ser reduzida a uma “Idade das Trevas”, para o senso comum, ela continua a ser lembrada dessa maneira, como um período de práticas e instituições “bárbaras”.

Com base na afirmação acima, indique e descreva

- a) duas contribuições relevantes da Idade Média.
- b) duas práticas ou instituições medievais lembradas negativamente.





### **Q.03**

Durante o século XVIII, na Europa, constituíram-se dois pólos dinâmicos: um de dimensão cultural, representado pela França, e outro de dimensão econômica, representado pela Inglaterra. Descreva aspectos referentes ao

- a) primeiro pólo.
- b) segundo pólo.

---

### **Q.04**

O estabelecimento dos franceses na Baía de Guanabara, em 1555, é um entre outros episódios que ilustram as relações entre a França e as terras americanas pertencentes à Coroa lusitana, durante os três primeiros séculos da colonização.

- a) Explique o que levou os franceses a se estabelecerem pela primeira vez nessas terras.
- b) Cite e caracterize uma outra tentativa francesa de ocupação na América Portuguesa.

ÁREA RESERVADA ÁREA RESERVADA ÁREA RESERVADA ÁREA RESERVADA ÁREA RESERVADA ÁREA RESERVADA

ÁREA DELIMITADA PARA A RESPOSTA DA QUESTÃO 3 - NÃO ULTRAPASSE ESTA ÁREA!

Blank writing area for question 3, consisting of horizontal lines.

ÁREA DELIMITADA PARA A RESPOSTA DA QUESTÃO 4 - NÃO ULTRAPASSE ESTA ÁREA!

Blank writing area for question 4, consisting of horizontal lines.

Grading scale for question 3, including options for CORR 1 (0-4), CORR 2 (0-4), and BRANCO.

Grading scale for question 4, including options for CORR 1 (0-4), CORR 2 (0-4), and BRANCO.



### **Q.05**

Nos Estados Unidos, a expansão para o Oeste se completou no final do século XIX. Discorra sobre esse fenômeno histórico no que se refere

- a) à questão indígena e à incorporação de terras para a agricultura.
- b) ao Oeste, como temática da cultura norte-americana, por exemplo na literatura, no cinema e nos meios de comunicação.

---

### **Q.06**

A extinção do tráfico de escravos africanos no Brasil ocorreu em 1850.

Com relação a esse marco histórico,

- a) explique o papel da Inglaterra nessa decisão.
- b) relacione-o com a chegada de imigrantes.







## Q.07

A vitória do regime republicano no Brasil (1889) e a conseqüente derrubada da monarquia podem ser explicadas, levando-se em conta diversos fatores. Entre eles, explique

- a) a importância do Partido Republicano.
- b) o papel dos militares apoiados nas idéias positivistas.

---

## Q.08

*“Canudos não se rendeu. Exemplo único em toda a História, resistiu até ao esgotamento completo. [...] Caiu no dia 5, ao entardecer, quando caíram os seus últimos defensores, que todos morreram. Eram quatro apenas: um velho, dois homens feitos e uma criança, na frente dos quais rugiam raivosamente cinco mil soldados.”*

Euclides da Cunha, **Os Sertões**.

Relacione o movimento de Canudos com

- a) os problemas econômico-sociais da região.
- b) a crença religiosa e a luta política da população.

ÁREA RESERVADA ÁREA RESERVADA ÁREA RESERVADA ÁREA RESERVADA ÁREA RESERVADA ÁREA RESERVADA

ÁREA DELIMITADA PARA A RESPOSTA DA QUESTÃO 7 - NÃO ULTRAPASSE ESTA ÁREA!

---

---

---

---

---

---

---

---

---

---

---

---

---

---

---

---

---

---

---

---

---

---

---

---

---

---

ÁREA DELIMITADA PARA A RESPOSTA DA QUESTÃO 8 - NÃO ULTRAPASSE ESTA ÁREA!

---

---

---

---

---

---

---

---

---

---

---

---

---

---

---

---

---

---

---

---

---

---

---

---

---

---

**CORR 1**  
0  
1  
2  
3  
4  
CORR 2  
0  
1  
2  
3  
4  
BRANCO

**CORR 1**  
0  
1  
2  
3  
4  
CORR 2  
0  
1  
2  
3  
4  
BRANCO



## Q.09



Fonte: Ilustração do livro *Justicialismo*, p. 185.



Fonte: Dia do Trabalho, Rio de Janeiro, 1942. In: *Nosso Século*, nº 23, capa.

Observando essas duas imagens e apoiando-se em seus conhecimentos,

- descreva os dois personagens históricos, explicando as relações entre o Estado e os trabalhadores.
- indique, no mínimo, duas outras características desses dois governos denominados populistas.

---

## Q.10

Índia e China ocupam, no atual cenário mundial, um lugar tão importante que já se fala, entre estudiosos de geopolítica, em denominar o século XXI como o “século asiático”.

Sobre as trajetórias históricas contemporâneas desses dois países, iniciadas, respectivamente, em 1947 e 1949, é possível estabelecer mais de um paralelo, ressaltando semelhanças e contrastes.

Indique o processo histórico

- da Índia, a partir de 1947, e seus desdobramentos posteriores.
- da China, a partir de 1949, e seus desdobramentos posteriores.

ÁREA RESERVADA ÁREA RESERVADA ÁREA RESERVADA ÁREA RESERVADA ÁREA RESERVADA

ÁREA DELIMITADA PARA A RESPOSTA DA QUESTÃO 9 - NÃO ULTRAPASSE ESTA ÁREA!

---

---

---

---

---

---

---

---

---

---

---

---

---

---

---

---

---

---

---

---

---

---

---

---

---

ÁREA DELIMITADA PARA A RESPOSTA DA QUESTÃO 10 - NÃO ULTRAPASSE ESTA ÁREA!

---

---

---

---

---

---

---

---

---

---

---

---

---

---

---

---

---

---

---

---

---

---

---

---

---

---

CORR 1
0 <input type="checkbox"/>
1 <input type="checkbox"/>
2 <input type="checkbox"/>
3 <input type="checkbox"/>
4 <input type="checkbox"/>
CORR 2
0 <input type="checkbox"/>
1 <input type="checkbox"/>
2 <input type="checkbox"/>
3 <input type="checkbox"/>
4 <input type="checkbox"/>
BRANCO
<input type="checkbox"/>

CORR 1
0 <input type="checkbox"/>
1 <input type="checkbox"/>
2 <input type="checkbox"/>
3 <input type="checkbox"/>
4 <input type="checkbox"/>
CORR 2
0 <input type="checkbox"/>
1 <input type="checkbox"/>
2 <input type="checkbox"/>
3 <input type="checkbox"/>
4 <input type="checkbox"/>
BRANCO
<input type="checkbox"/>



**FUVEST 2008**  
2ª Fase - História ou Química (07/01/2008)

001/001

BOX 000  
000/000

001/001

**FUVEST 2008**

2ª Fase – História ou Química (07/01/2008)

BOX 000  
000/000**FUVEST**

FUNDAÇÃO UNIVERSITÁRIA PARA O VESTIBULAR

**Leia atentamente as instruções  
abaixo**

1. Aguarde a autorização do fiscal para abrir o caderno de questões e iniciar a prova.
2. Verifique se seu nome e seu número de inscrição estão corretos.
3. Duração da prova : **3 horas.**
4. A prova deve ser feita com caneta azul ou preta.
5. A solução de cada questão deve ser feita nos espaços correspondentes.
6. Este caderno de prova contém páginas destinadas a rascunho. O que estiver escrito nessas páginas **NÃO** será considerado na correção da prova.
7. Verifique se este caderno de prova contém 10 (dez) questões e se a impressão está legível.
8. **NÃO escreva no verso desta folha.**

**BOA PROVA !**Ciente dessas informações, assino o  
canhoto abaixo.

Ordem	Inscrição	Prova	Escola/Sala/Fila/Lugar
<input type="text"/>	<input type="text"/>	<input type="text"/>	<input type="text"/>

Nome do Candidato

QUÍMICA

Assinatura do Candidato

**Química**

LOTE

SEQ.

—	<input type="text"/>	<input type="text"/>	<input type="text"/>	<input type="text"/>	<input type="text"/>	<input type="text"/>	<input type="text"/>	<input type="text"/>	<input type="text"/>	—
	<input type="text"/>	<input type="text"/>	<input type="text"/>	<input type="text"/>	<input type="text"/>	<input type="text"/>	<input type="text"/>	<input type="text"/>	<input type="text"/>	—
	<input type="text"/>	<input type="text"/>	<input type="text"/>	<input type="text"/>	<input type="text"/>	<input type="text"/>	<input type="text"/>	<input type="text"/>	<input type="text"/>	—
	<input type="text"/>	<input type="text"/>	<input type="text"/>	<input type="text"/>	<input type="text"/>	<input type="text"/>	<input type="text"/>	<input type="text"/>	<input type="text"/>	—

Q.01	<input type="text"/>	<input type="text"/>	<input type="text"/>	<input type="text"/>	<input type="text"/>	—
	0	1	2	3	4	—
Q.02	<input type="text"/>	<input type="text"/>	<input type="text"/>	<input type="text"/>	<input type="text"/>	—

Q.03	<input type="text"/>	<input type="text"/>	<input type="text"/>	<input type="text"/>	<input type="text"/>	—
	0	1	2	3	4	—
Q.04	<input type="text"/>	<input type="text"/>	<input type="text"/>	<input type="text"/>	<input type="text"/>	—

Q.05	<input type="text"/>	<input type="text"/>	<input type="text"/>	<input type="text"/>	<input type="text"/>	—
	0	1	2	3	4	—
Q.06	<input type="text"/>	<input type="text"/>	<input type="text"/>	<input type="text"/>	<input type="text"/>	—

Q.07	<input type="text"/>	<input type="text"/>	<input type="text"/>	<input type="text"/>	<input type="text"/>	—
	0	1	2	3	4	—
Q.08	<input type="text"/>	<input type="text"/>	<input type="text"/>	<input type="text"/>	<input type="text"/>	—

Q.09	<input type="text"/>	<input type="text"/>	<input type="text"/>	<input type="text"/>	<input type="text"/>	—
	0	1	2	3	4	—
Q.10	<input type="text"/>	<input type="text"/>	<input type="text"/>	<input type="text"/>	<input type="text"/>	—

—	<input type="text"/>	<input type="text"/>	<input type="text"/>	<input type="text"/>	<input type="text"/>	<input type="text"/>	<input type="text"/>	<input type="text"/>	<input type="text"/>	—
	<input type="text"/>	<input type="text"/>	<input type="text"/>	<input type="text"/>	<input type="text"/>	<input type="text"/>	<input type="text"/>	<input type="text"/>	<input type="text"/>	—
	<input type="text"/>	<input type="text"/>	<input type="text"/>	<input type="text"/>	<input type="text"/>	<input type="text"/>	<input type="text"/>	<input type="text"/>	<input type="text"/>	—
	<input type="text"/>	<input type="text"/>	<input type="text"/>	<input type="text"/>	<input type="text"/>	<input type="text"/>	<input type="text"/>	<input type="text"/>	<input type="text"/>	—

**FUVEST 2008**

**NÃO  
ESCREVA  
NESTA  
FOLHA**





## ATENÇÃO

ESTE CADERNO CONTÉM 10 (DEZ) QUESTÕES E RESPECTIVOS ESPAÇOS PARA RESPOSTAS.

DURAÇÃO DA PROVA: 3 (TRÊS) HORAS.

VERIFIQUE SE HÁ, NO ESPAÇO DESTINADO À RESPOSTA DA QUESTÃO 03, UMA TABELA E UMA GRADE PARA GRÁFICO. SE FALTAR, PEÇA AO FISCAL A SUBSTITUIÇÃO DA FOLHA CORRESPONDENTE.

- A correção de cada questão será restrita somente ao que estiver registrado no espaço correspondente, na página de respostas, à direita.
- É indispensável indicar a resolução das questões, não sendo suficiente apenas escrever as respostas.
- Há espaço para rascunho, tanto no início quanto no final deste caderno.



## Q.01

Devido à toxicidade do mercúrio, em caso de derramamento desse metal, costuma-se espalhar enxofre no local para removê-lo. Mercúrio e enxofre reagem, gradativamente, formando sulfeto de mercúrio. Para fins de estudo, a reação pode ocorrer mais rapidamente, se as duas substâncias forem misturadas num almofariz. Usando esse procedimento, foram feitos dois experimentos. No primeiro, 5,0 g de mercúrio e 1,0 g de enxofre reagiram, formando 5,8 g do produto, sobrando 0,2 g de enxofre. No segundo experimento, 12,0 g de mercúrio e 1,6 g de enxofre forneceram 11,6 g do produto, restando 2,0 g de mercúrio.

- a) Mostre que os dois experimentos estão de acordo com a lei da conservação da massa (Lavoisier) e a lei das proporções definidas (Proust).
- b) Existem compostos de Hg (I) e de Hg (II). Considerando os valores das massas molares e das massas envolvidas nos dois experimentos citados, verifique se a fórmula do composto formado, em ambos os casos, é HgS ou Hg<sub>2</sub>S. Mostre os cálculos.

Dados: massas molares: mercúrio (Hg) ..... 200  
(g mol<sup>-1</sup>)                      enxofre (S) ..... 32

---

## Q.02

Um dos métodos industriais de obtenção de zinco, a partir da blenda de zinco, ZnS, envolve quatro etapas em seqüência:

- I) Aquecimento do minério com oxigênio (do ar atmosférico), resultando na formação de óxido de zinco e dióxido de enxofre.
  - II) Tratamento, com carvão, a alta temperatura, do óxido de zinco, resultando na formação de zinco e monóxido de carbono.
  - III) Resfriamento do zinco formado, que é recolhido no estado líquido.
  - IV) Purificação do zinco por destilação fracionada. Ao final da destilação, o zinco líquido é despejado em moldes, nos quais se solidifica.
- a) Represente, por meio de equação química balanceada, a primeira etapa do processo.
  - b) Indique o elemento que sofreu oxidação e o elemento que sofreu redução, na segunda etapa do processo. Justifique.
  - c) Indique, para cada mudança de estado físico que ocorre na etapa IV, se ela é exotérmica ou endotérmica.

ÁREA RESERVADA ÁREA RESERVADA ÁREA RESERVADA ÁREA RESERVADA ÁREA RESERVADA ÁREA RESER

ÁREA DELIMITADA PARA A RESPOSTA DA QUESTÃO 1 - NÃO ULTRAPASSE ESTA ÁREA!

ÁREA DELIMITADA PARA A RESPOSTA DA QUESTÃO 2 - NÃO ULTRAPASSE ESTA ÁREA!

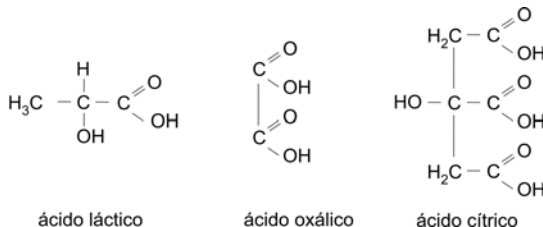
	CORR 1
<input type="checkbox"/>	0
<input type="checkbox"/>	1
<input type="checkbox"/>	2
<input type="checkbox"/>	3
<input type="checkbox"/>	4
	CORR 2
<input type="checkbox"/>	0
<input type="checkbox"/>	1
<input type="checkbox"/>	2
<input type="checkbox"/>	3
<input type="checkbox"/>	4
	BRANCO
<input type="checkbox"/>	

	CORR 1
<input type="checkbox"/>	0
<input type="checkbox"/>	1
<input type="checkbox"/>	2
<input type="checkbox"/>	3
<input type="checkbox"/>	4
	CORR 2
<input type="checkbox"/>	0
<input type="checkbox"/>	1
<input type="checkbox"/>	2
<input type="checkbox"/>	3
<input type="checkbox"/>	4
	BRANCO
<input type="checkbox"/>	



### Q.03

Em um exame, para o preenchimento de uma vaga de químico, as seguintes fórmulas estruturais foram apresentadas ao candidato:



A seguir, o examinador pediu ao candidato que determinasse, experimentalmente, o calor liberado ao fazer-se a mistura de volumes definidos de duas soluções aquosas, de mesma concentração, uma de hidróxido de sódio e outra de um dos três ácidos carboxílicos apresentados, sem revelar qual deles havia sido escolhido. Foi informado ao candidato que, quando o ácido e a base reagem na proporção estequiométrica, o calor liberado é máximo.

Os resultados obtidos foram os seguintes:

Volume da solução de base/mL	0	15	30	35	40	45	50
Volume da solução de ácido/mL	50	35	20	15	10	5	0
Calor liberado/J	0	700	1400	1500	1000	500	0

Diante dos resultados obtidos, o examinador pediu ao candidato que determinasse qual dos ácidos havia sido utilizado no experimento. Para responder, o candidato construiu uma tabela e um gráfico do calor liberado *versus*  $x_{\text{base}}$ , definido como:

$$x_{\text{base}} = \frac{V_{\text{base}}}{V_{\text{base}} + V_{\text{ácido}}}, \text{ equivalente a } x_{\text{base}} = \frac{n_{\text{base}}}{n_{\text{base}} + n_{\text{ácido}}}$$

onde:  
 $n$  = quantidade de ácido ou de base (em mol)  
 $V$  = volume da solução de ácido ou de base (em mL)

- Reproduza, na página ao lado, a tabela e o gráfico que devem ter sido obtidos pelo candidato. Pelos pontos do gráfico, podem ser traçadas duas retas, cujo cruzamento corresponde ao máximo calor liberado.
- Determine o valor de  $x_{\text{base}}$  que corresponde ao ponto de cruzamento das retas em seu gráfico.
- Qual foi o ácido escolhido pelo examinador? Explique.
- Indique qual é o reagente limitante para o experimento em que o calor liberado foi 1400 J e para aquele em que o calor liberado foi 1500 J. Explique.

### Q.04

Foram misturados 2,00 L de um alcano de  $m$  átomos de carbono por molécula e 2,00 L de outro alcano de  $n$  átomos de carbono por molécula, ambos gasosos. Esses alcanos podem ser quaisquer dois dentre os seguintes: metano, etano, propano ou butano. Na combustão completa dessa mistura gasosa, foram consumidos 23,00 L de oxigênio. Todos os volumes foram medidos nas mesmas condições de pressão e temperatura.

- Escreva a equação da combustão completa de um alcano de  $n$  átomos de carbono por molécula.

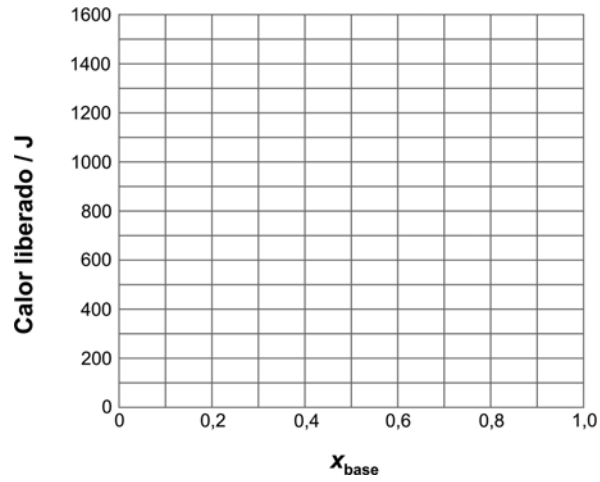
Para identificar os dois alcanos que foram misturados, conforme indicado acima, é preciso considerar a lei de Avogadro, que relaciona o volume de um gás com seu número de moléculas.

- Escreva o enunciado dessa lei.
- Identifique os dois alcanos. Explique como chegou a essa conclusão.

ÁREA RESERVADA ÁREA RESERVADA ÁREA RESERVADA ÁREA RESERVADA ÁREA RESERVADA

ÁREA DELIMITADA PARA A RESPOSTA DA QUESTÃO 3 - NÃO ULTRAPASSE ESTA ÁREA!

$x_{base}$							
Calor liberado / J	0	700	1400	1500	1000	500	0



ÁREA DELIMITADA PARA A RESPOSTA DA QUESTÃO 4 - NÃO ULTRAPASSE ESTA ÁREA!

CORR 1

0

1

2

3

4

CORR 2

0

1

2

3

4

BRANCO

CORR 1

0

1

2

3

4

CORR 2

0

1

2

3

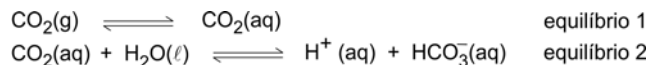
4

BRANCO



## Q.05

Mesmo em regiões não poluídas, a água da chuva não apresenta pH igual a 7, devido ao  $\text{CO}_2$  atmosférico, que nela se dissolve, estabelecendo-se os equilíbrios

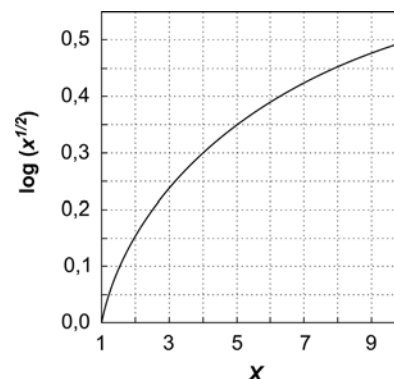


No equilíbrio 1, o valor da concentração de  $\text{CO}_2$  dissolvido na água,  $[\text{CO}_2(\text{aq})]$ , é obtido pela lei de Henry, que fornece a solubilidade do  $\text{CO}_2$  na água, em função da pressão parcial desse gás,  $P_{\text{CO}_2}$ , no ar:

$$[\text{CO}_2(\text{aq})] = k \cdot P_{\text{CO}_2}, \text{ onde } k = 3,5 \times 10^{-2} \text{ mol L}^{-1} \text{ atm}^{-1}, \text{ a } 25^\circ\text{C}.$$

O valor da constante do equilíbrio 2, a  $25^\circ\text{C}$ , é  $4,4 \times 10^{-7} \text{ mol L}^{-1}$ .

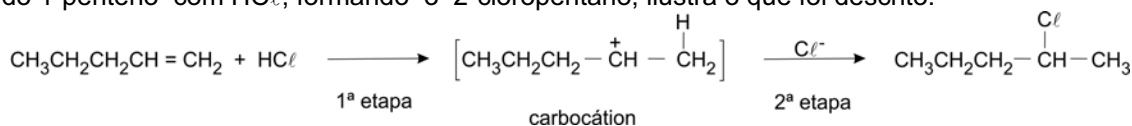
- Atualmente, a concentração de  $\text{CO}_2$  na atmosfera se aproxima de 400 ppm. Calcule a pressão parcial de  $\text{CO}_2$  para um local em que a pressão do ar é 1,0 atm.
- Escreva a expressão da constante do equilíbrio 2.
- Calcule o pH da água da chuva (o gráfico ao lado poderá ajudar, evitando operações como extração de raiz quadrada e de logaritmo).



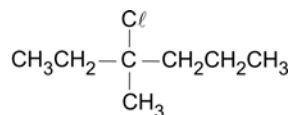
Observação: ppm = partes por milhão.

## Q.06

A adição de  $\text{HCl}$  a alcenos ocorre em duas etapas. Na primeira delas, o íon  $\text{H}^+$ , proveniente do  $\text{HCl}$ , liga-se ao átomo de carbono da dupla ligação que está ligado ao menor número de outros átomos de carbono. Essa nova ligação ( $\text{C-H}$ ) é formada à custa de um par eletrônico da dupla ligação, sendo gerado um íon com carga positiva, chamado carbocátion, que reage imediatamente com o íon cloreto, dando origem ao produto final. A reação do 1-penteno com  $\text{HCl}$ , formando o 2-cloropentano, ilustra o que foi descrito.



- Escreva a fórmula estrutural do carbocátion que, reagindo com o íon cloreto, dá origem ao seguinte haleto de alquila:



- Escreva a fórmula estrutural de três alcenos que não sejam isômeros cis-trans entre si e que, reagindo com  $\text{HCl}$ , podem dar origem ao haleto de alquila do item anterior.
- Escreva a fórmula estrutural do alceno do item **b** que não apresenta isomeria cis-trans. Justifique.

ÁREA RESERVADA ÁREA RESERVADA ÁREA RESERVADA ÁREA RESERVADA ÁREA RESERVADA ÁREA RESER

ÁREA DELIMITADA PARA A RESPOSTA DA QUESTÃO 5 - NÃO ULTRAPASSE ESTA ÁREA!

ÁREA DELIMITADA PARA A RESPOSTA DA QUESTÃO 6 - NÃO ULTRAPASSE ESTA ÁREA!

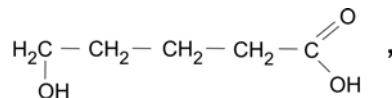
CORR 1	<input type="text"/>
0	<input type="text"/>
1	<input type="text"/>
2	<input type="text"/>
3	<input type="text"/>
4	<input type="text"/>
CORR 2	<input type="text"/>
0	<input type="text"/>
1	<input type="text"/>
2	<input type="text"/>
3	<input type="text"/>
4	<input type="text"/>
BRANCO	<input type="text"/>

CORR 1	<input type="text"/>
0	<input type="text"/>
1	<input type="text"/>
2	<input type="text"/>
3	<input type="text"/>
4	<input type="text"/>
CORR 2	<input type="text"/>
0	<input type="text"/>
1	<input type="text"/>
2	<input type="text"/>
3	<input type="text"/>
4	<input type="text"/>
BRANCO	<input type="text"/>



### Q.07

Um químico, pensando sobre quais produtos poderiam ser gerados pela desidratação do ácido 5-hidróxi-pentanóico,



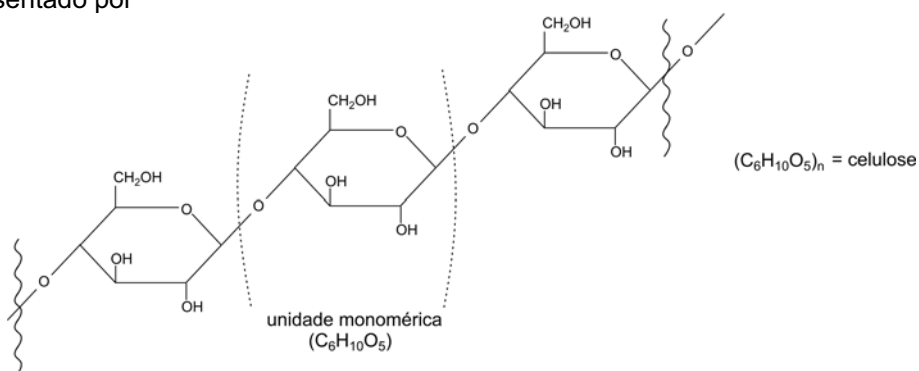
imaginou que

- a) a desidratação intermolecular desse composto poderia gerar um éter ou um éster, ambos de cadeia aberta. Escreva as fórmulas estruturais desses dois compostos.
- b) a desidratação intramolecular desse composto poderia gerar um éster cíclico ou um ácido com cadeia carbônica insaturada. Escreva as fórmulas estruturais desses dois compostos.

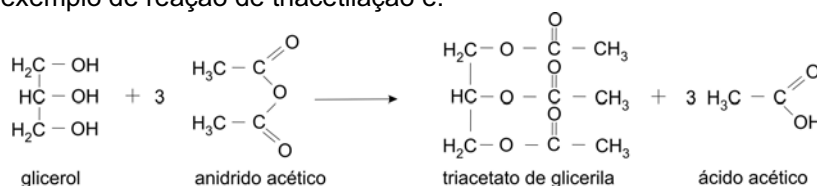
---

### Q.08

A celulose é um polímero natural, constituído de alguns milhares de unidades de glicose. Um segmento desse polímero é representado por



Produz-se o acetato de celulose, usado na fabricação de fibras têxteis, fazendo-se reagir a celulose com anidrido acético. Um exemplo de reação de triacetilação é:



- a) Escreva a unidade monomérica da celulose após ter sido triacetilada, isto é, após seus três grupos hidroxila terem reagido com anidrido acético. Represente explicitamente todos os átomos de hidrogênio que devem estar presentes nessa unidade monomérica triacetilada.
- b) Calcule a massa de anidrido acético necessária para triacetilar 972 g de celulose.
- c) Calcule o número de unidades monoméricas, presentes na cadeia polimérica de certa amostra de celulose cuja massa molar média é  $4,86 \times 10^5 \text{ g mol}^{-1}$ .

Dados: massas molares ( $\text{g mol}^{-1}$ )	anidrido acético ..... 102
	unidade monomérica da celulose ..... 162



ÁREA RESERVADA ÁREA RESERVADA ÁREA RESERVADA ÁREA RESERVADA ÁREA RESERVADA ÁREA RESER

ÁREA DELIMITADA PARA A RESPOSTA DA QUESTÃO 7 - NÃO ULTRAPASSE ESTA ÁREA!

ÁREA DELIMITADA PARA A RESPOSTA DA QUESTÃO 8 - NÃO ULTRAPASSE ESTA ÁREA!

CORR 1
0
1
2
3
4
CORR 2
0
1
2
3
4
BRANCO

CORR 1
0
1
2
3
4
CORR 2
0
1
2
3
4
BRANCO

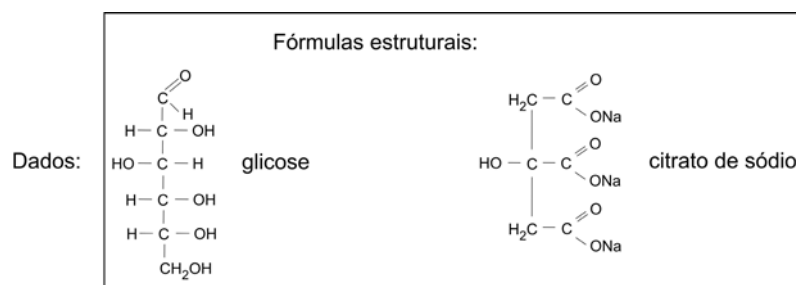


### Q.09

Existem soluções aquosas de sais e glicose, vendidas em farmácias, destinadas ao tratamento da desidratação que ocorre em pessoas que perderam muito líquido. Uma dessas soluções tem a seguinte composição:

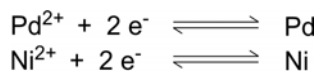
Substância	Concentração mol / 500 mL de solução
Cloreto de sódio	$1,8 \times 10^{-2}$
Citrato de potássio monoidratado	$3,3 \times 10^{-3}$
Citrato de sódio diidratado	$1,7 \times 10^{-3}$
Glicose	$6,3 \times 10^{-2}$

- a) Calcule a concentração, em mol L<sup>-1</sup>, dos íons sódio e dos íons citrato, nessa solução.
- b) Tal solução aquosa apresenta atividade óptica. Qual das espécies químicas presentes é responsável por essa propriedade? Justifique.



### Q.10

Foi montada uma pilha em que o pólo positivo era constituído por um bastão de paládio, mergulhado numa solução de cloreto de paládio e o pólo negativo, por um bastão de níquel, mergulhado numa solução de sulfato de níquel. As semi-reações que representam os eletrodos são:



- a) Escreva a equação que representa a reação química que ocorre quando a pilha está funcionando (sentido espontâneo).
- b) O que acontece com as concentrações de Pd<sup>2+</sup> e Ni<sup>2+</sup> durante o funcionamento da pilha? Explique.
- c) Os dados da tabela abaixo sugerem que o princípio de Le Châtelier se aplica à reação química que acontece nessa pilha. Explique por quê.

Experimento	[Pd <sup>2+</sup> ] / mol L <sup>-1</sup>	[Ni <sup>2+</sup> ] / mol L <sup>-1</sup>	E / V
A	1,00	0,100	1,27
B	1,00	1,00	1,24
C	0,100	1,00	1,21

E = diferença de potencial elétrico

ÁREA RESERVADA ÁREA RESERVADA ÁREA RESERVADA ÁREA RESERVADA ÁREA RESERVADA ÁREA RESER

ÁREA DELIMITADA PARA A RESPOSTA DA QUESTÃO 9 - NÃO ULTRAPASSE ESTA ÁREA!

ÁREA DELIMITADA PARA A RESPOSTA DA QUESTÃO 10 - NÃO ULTRAPASSE ESTA ÁREA!

CORR 1
0
1
2
3
4
CORR 2
0
1
2
3
4
BRANCO

CORR 1
0
1
2
3
4
CORR 2
0
1
2
3
4
BRANCO







**FUVEST 2008**  
2ª Fase - História ou Química (07/01/2008)

001/001

BOX 000  
000/000